

Università Politecnica delle Marche
Corso di Laurea in Ingegneria Informatica e dell'Automazione
Anno Accademico 2008/2009

Matematica 1
Appello del 12 dicembre 2008

Nome:.....

N. matr.:.....

Ancona, 12 dicembre 2008

Domande elementari.

1. (2 punti) Risolvere la disequazione

$$e^{4x} - 3e^{2x} - 4 > 0.$$

2. (2 punti) Risolvere l'equazione

$$\ln \left(\frac{2x^2 + 3x - 1}{x^2 + 2x + 1} \right) = 0$$

Domande teoriche.

1. (i) (3 punti) Dare la definizione di punto angoloso, cuspide e flesso a tangente verticale per una funzione reale di variabile reale.

- (ii) (3 punti) Classificare quindi i punti di non derivabilità delle funzioni

$$f_1(x) = x^{1/3}, \quad f_2(x) = |x|^{1/2}, \quad f_3(x) = \sin |x|,$$

definite nell'intervallo $-1 \leq x \leq 1$.

2. (i) (3 punti) Enunciare e dimostrare il teorema del valor medio di Lagrange per una funzione reale di variabile reale.

- (ii) (3 punti) Si considerino quindi le funzioni

$$f_1(x) = |\cos x| \quad \text{e} \quad f_2(x) = \cos(x)^2$$

e si discuta l'applicabilità del teorema di Lagrange a tali funzioni nell'intervallo $0 \leq x \leq \pi$.

Esercizi.

1. (4 punti) Calcolare l'integrale

$$\int_0^{2\pi} |\sin x| |\cos x| dx$$

2. (4 punti) Studiare la funzione $f : [-\pi, \pi] \rightarrow \mathbb{R}$ data da

$$f(x) = \frac{|\sin x|}{|\sin x| - 2}.$$

3. (3 punti) Stabilire quale delle seguenti applicazioni, $f_i: V_1 \rightarrow V_2$, con $V_1 = V_2 = \mathbb{R}^3$ è lineare:

$$f_1 : (x, y, z) \rightarrow (x + y + z + 1, 2x - y, x - 2y + z)$$

$$f_2 : (x, y, z) \rightarrow (x + y + z, x - y - z, xy + z)$$

$$f_3 : (x, y, z) \rightarrow (x + y - z, 2x - 2y + z, 3x - 2y + 2z),$$

e determinarne la matrice di rappresentazione usando la base canonica sia per lo spazio V_1 che per lo spazio V_2 . Determinare quindi la matrice di rappresentazione nella base $\{(-1, 1, 1), (1, -1, 0), (0, 1, 1)\}$ per V_1 e la base canonica per V_2 .

4. (3 punti) Stabilire la convergenza degli integrali impropri

$$\int_0^1 \frac{\sqrt{x} + x^2}{x} dx \qquad \int_1^{+\infty} \frac{x^2 - x + 2}{x^4 + x^2 + 1} dx$$

$$1) e^{4x} - 3e^{2x} - 4 > 0$$

$$y = e^{2x} > 0 !!$$

$$y^2 - 3y - 4 > 0$$

$$y_{1,2} = \frac{3 \pm \sqrt{9+16}}{2} = \frac{3 \pm 5}{2} = \begin{matrix} -1 \\ 4 \end{matrix}$$

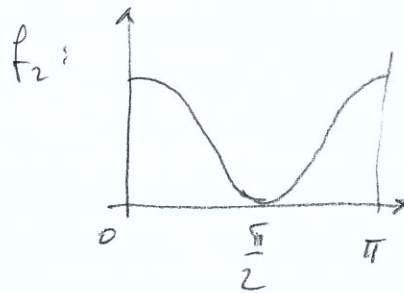
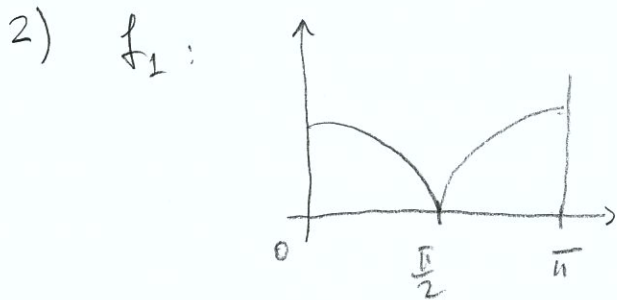
$$\Rightarrow y < -1 \text{ e } \textcircled{y > 4} \quad e^x > 2 \quad \textcircled{x > \ln 2}$$

$$2) \frac{2x^2 + 3x - 1}{x^2 + 2x + 1} = 1 \Rightarrow x^2 + x - 2 = 0$$

$$x_{1,2} = \frac{-1 \pm \sqrt{1+8}}{2} = \begin{matrix} \textcircled{-2} \\ \textcircled{1} \end{matrix}$$

$$1) f_1 = x^{1/3} \quad x=0 \quad \text{flessa e tang. verticale}$$

$$f_2 = |x|^{1/2} \quad x=0 \quad \text{cuspidate}; \quad f_3(x) = \ln|x| \quad x=0 \quad \text{punto angoloso}$$



Non applicabile ad f_1 perché non derivabile

Applicabile ad f_2

$$1) \int_0^{2\pi} |\sin x| \cdot |\cos x| dx = \int_0^{\pi/2} \sin x \cos x dx - \int_{\pi/2}^{\pi} \sin x \cdot \cos x dx + \int_{\pi}^{3\pi/2} \sin x \cos x dx + \int_{3\pi/2}^{2\pi} \sin x \cos x dx = \textcircled{*}$$

$$\int \sin x \cos x dx = \frac{\sin^2 x}{2} + C \quad \textcircled{*} = \frac{1}{2} + \frac{1}{2} + \frac{1}{2} + \frac{1}{2} = 2$$

2)

$$f(x) = \begin{cases} \frac{-\sin x}{-\sin x - 2} = \frac{\sin x}{\sin x + 2} & x \in [-\pi, 0] \\ \frac{\sin x}{\sin x - 2} & x \in [0, \pi] \end{cases}$$

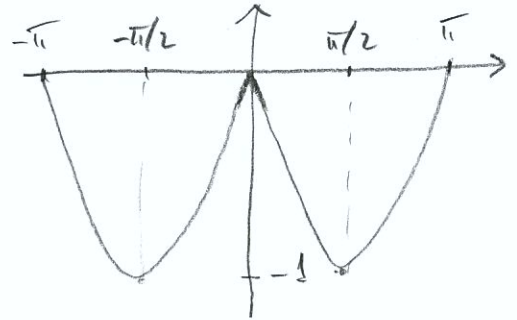
$\sin x \pm 2 \neq 0$
NO ASINTOTTA VERTIC.

$$f(-\pi) = f(0) = f(\pi) = 0$$

$$f'(x) = \begin{cases} \frac{2 \cos x}{(2 + \sin x)^2} & x \in [-\pi, 0] \\ -\frac{2 \cos x}{(\sin x - 2)^2} & x \in [0, \pi] \end{cases}$$

$$f'(0) = \begin{cases} \frac{1}{2} \\ -\frac{1}{2} \end{cases} \quad x=0 \text{ punto angoloso}$$

$$f'(x) = 0 \rightarrow \begin{cases} x = -\frac{\pi}{2} \\ x = \frac{\pi}{2} \end{cases} \quad \text{entrambi punti di max}$$



3) Solo f_3 è lineare.

Nell' altre basi:

Nella base canonica:

$$\begin{pmatrix} 1 & 1 & -1 \\ 2 & -2 & 1 \\ 3 & -2 & 2 \end{pmatrix}$$

$$\begin{pmatrix} -1 & 0 & 0 \\ -3 & 4 & -1 \\ -3 & 5 & 0 \end{pmatrix}$$

$$4) \frac{\sqrt{x+x^2}}{x} \sim \frac{1}{\sqrt{x}}, x \rightarrow 0 \Rightarrow \int_0^1 \frac{\sqrt{x+x^2}}{x} dx \text{ converge}$$

$$\frac{x^2-x+2}{x^4+x^2+1} \sim \frac{1}{x^2}, x \rightarrow \infty \Rightarrow \int_1^{\infty} \frac{x^2-x+2}{x^4+x^2+1} dx \text{ converge}$$